

1. Actividades de refuerzo

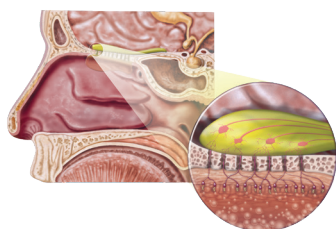
Nombre y apellidos:

Curso:

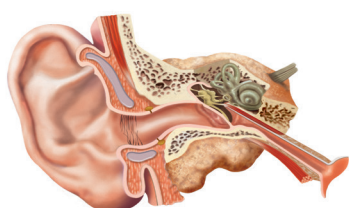
Grupo:

Fecha:

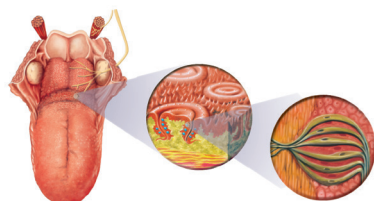
1. Nombra los sentidos que representa cada uno de los siguientes dibujos:



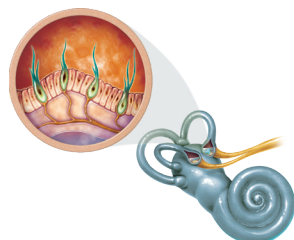
a) _____



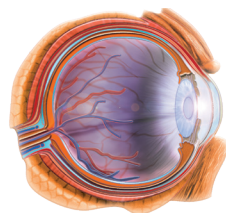
b) _____



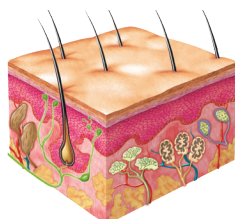
c) _____



d) _____



e) _____



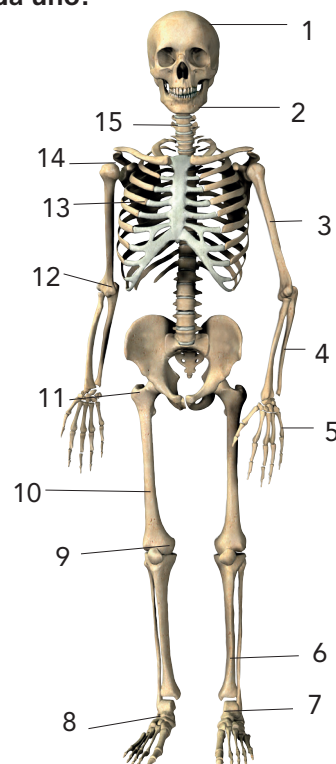
f) _____

2. Relaciona mediante flechas los siguientes conceptos:

Órgano	Estímulo	Sensación
Lengua	Luz	Sabor
Piel	Sonido	Calor
Ojo	Sustancias químicas en el aire	Visión
Nariz	Sustancias químicas en alimentos	Olor
Oreja	Altas temperaturas	Audición

3. Elabora una lista con los consejos más importantes para mantener la salud de los órganos de los sentidos.

4. Nombra cada uno de los huesos del esqueleto marcados con números. ¿A qué zona del esqueleto pertenece cada uno?



5. Completa el siguiente texto con una única palabra en cada hueco:

"El sistema _____ y el sistema _____ conforman el aparato locomotor. El sistema _____ es la parte pasiva del aparato locomotor. El _____ está compuesto por 206 _____, 360 _____ (zonas de unión de los huesos) y multitud de _____ (estructuras de tejido conectivo que unen los huesos).

El sistema _____ constituye la parte activa del aparato locomotor. Está formado por 650 _____ y gran cantidad de _____."