

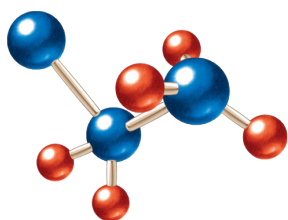
Nombre y apellidos:

Curso:

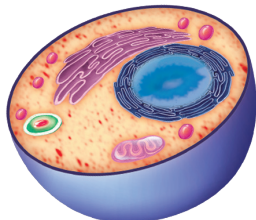
Grupo:

Fecha:

1. Nombra los siguientes niveles de organización y ordénalos correctamente:



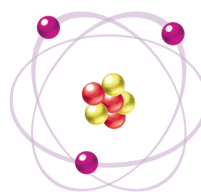
a) _____



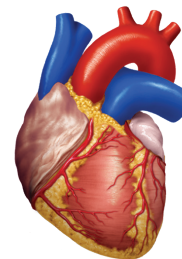
b) _____



c) _____



d) _____



e) _____

2. Relaciona mediante flechas los siguientes conceptos:

Órgano celular
Membrana celular
Citoplasma
Núcleo
Mitocondrias
Ribosomas

Función
Obtener energía para la célula.
Fabricar proteínas.
Envolver y aislar a la célula del exterior.
Contiene el material hereditario.
Líquido que rellena el interior celular.

3. ¿Cuáles son las tres funciones vitales de una célula? Explica brevemente cada una de ellas.

4. Indica qué funciones desempeñan los siguientes tejidos: a) glandular b) óseo c) nervioso d) adiposo e) muscular f) cartilaginoso

5. Nombra cada uno de los órganos representados en las siguientes imágenes:



a) _____



b) _____



c) _____



d) _____



e) _____

6. Completa la siguiente tabla indicando la función de cada aparato o sistema:

Aparato/sistema	Funciones
A. Digestivo	
	Participa en la función de reproducción.
A. Circulatorio	
	Se encarga de la coordinación nerviosa y endocrina (hormonal).
A. Excretor	
	Recubre el cuerpo y lo protege de agresiones externas.
	Permite el movimiento del cuerpo mediante músculos y huesos.
A. Respiratorio	