

2. Actividades de ampliación

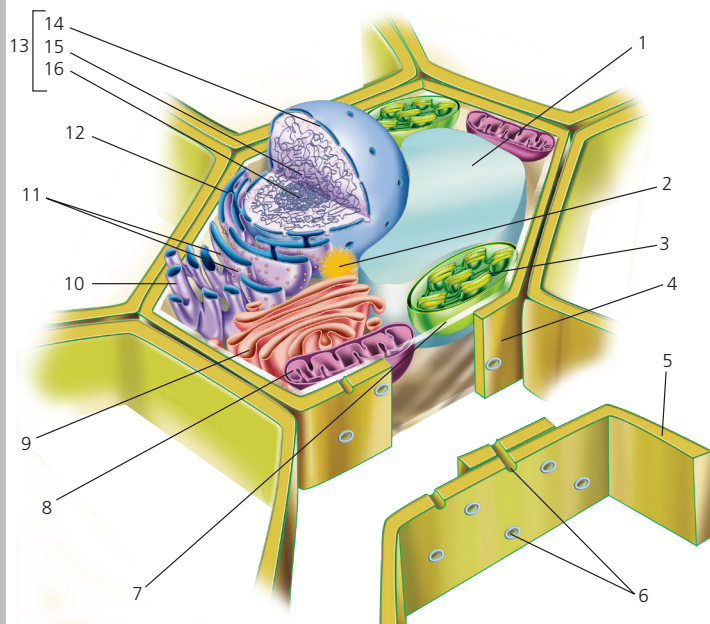
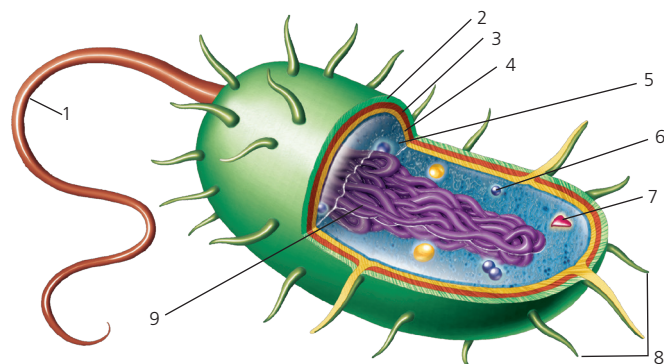
Nombre y apellidos:

Curso:

Grupo:

Fecha:

1. Nombra los orgánulos celulares que aparecen en los siguientes esquemas celulares. ¿De qué células se trata?

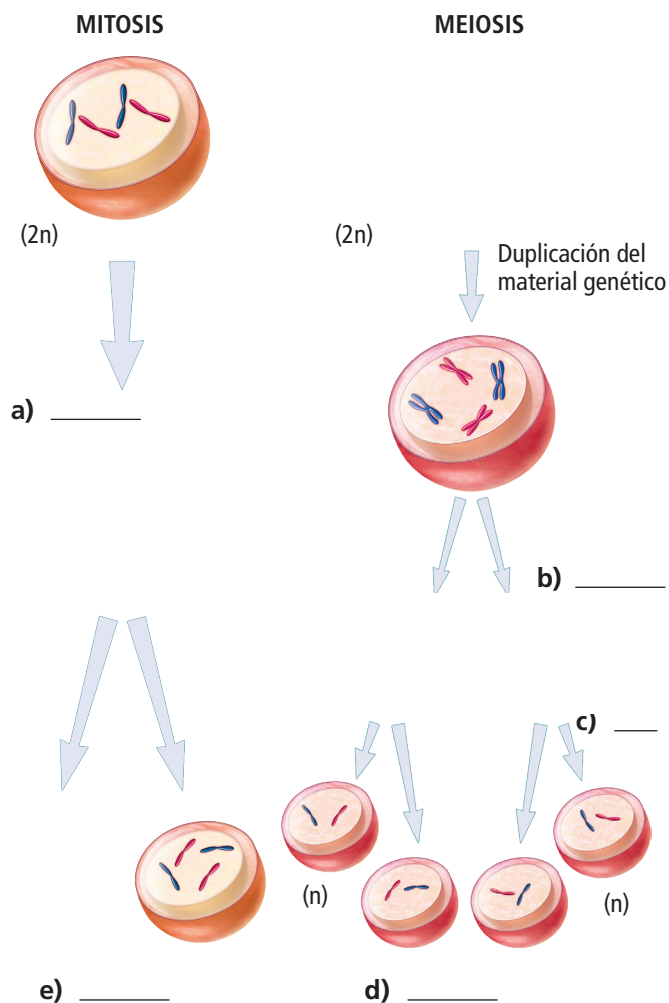


2. Completa la siguiente tabla de biomoléculas:

| Principales biomoléculas | |
|--------------------------|--|
| Inorgánicas | |
| | |
| Orgánicas | |
| | |
| | |

3. Elabora un dibujo lo más detallado posible de la membrana plasmática y señala los principales mecanismos de transporte celular.

4. Completa el siguiente esquema de los mecanismos de división celular:



5. Completa la siguiente tabla comparativa para los tipos de microscopios:

| Tipo | Aumentos | Fuente | Imagen | Observación |
|------|----------|--------|--------|-------------|
| | | | | |
| | | | | |