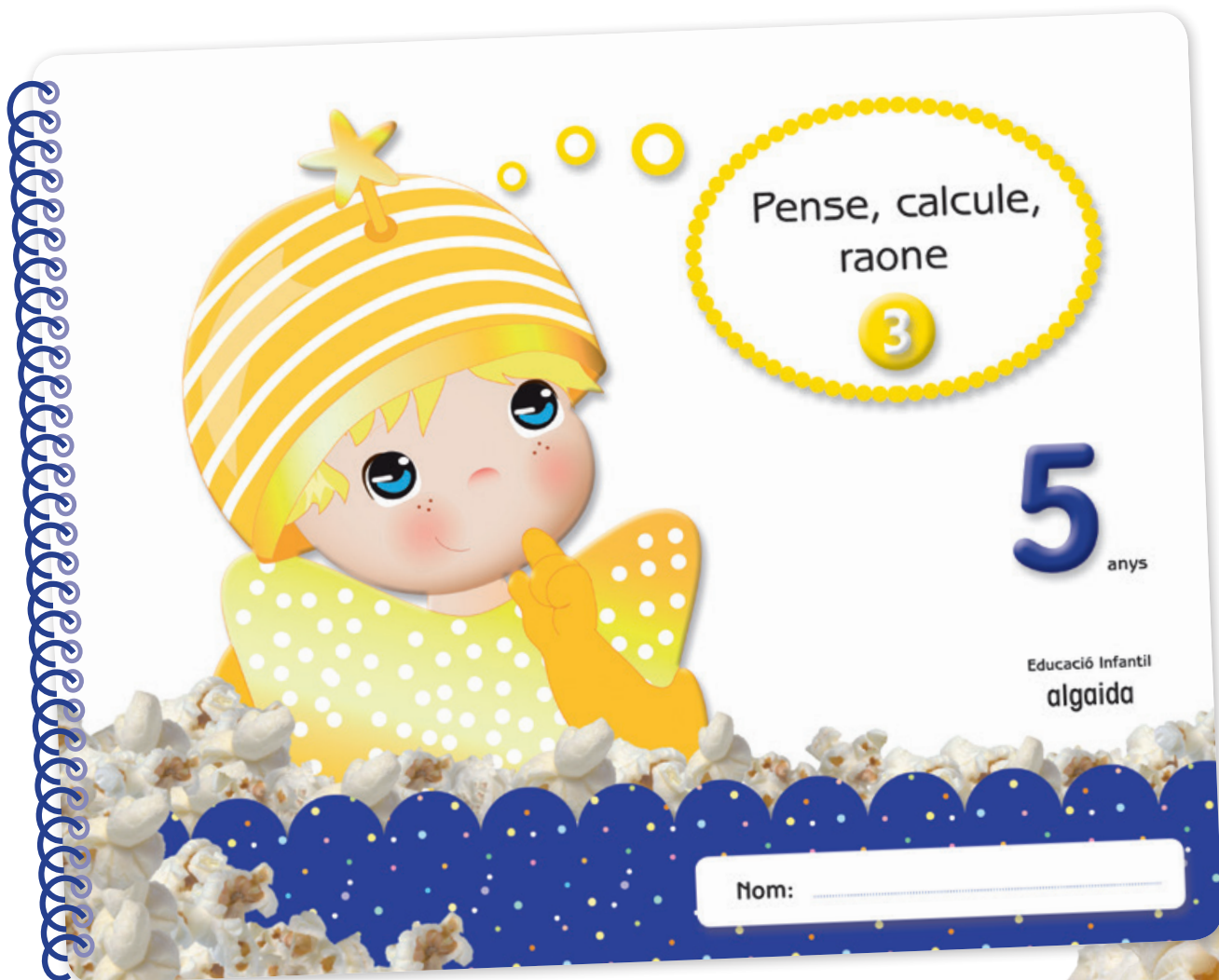


UNITAT

"PENSE, CALCULE, RAONE 3"



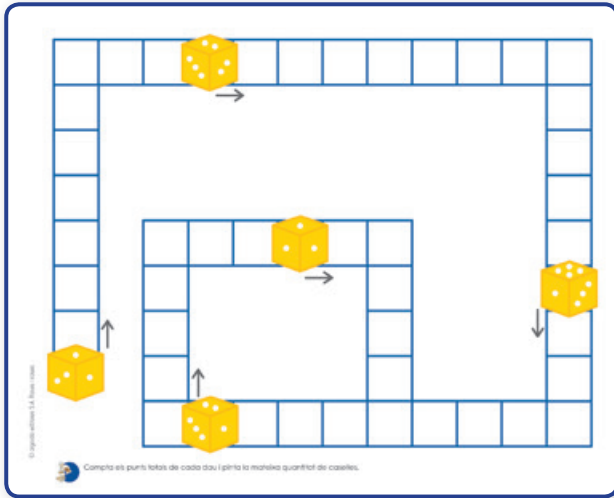


Amb aquest quadern es pretén consolidar, repassar, reforçar i/o ampliar els continguts matemàtics que es treballen en les unitats. És d'ús lliure, segons el criteri de cada docent. Suggerim que es treballi:

- Alternant-lo amb les unitats del trimestre.
- Al final del trimestre com a unitat de repàs de matemàtiques.
- També cap la possibilitat que el porten a casa com a treball de vacances.



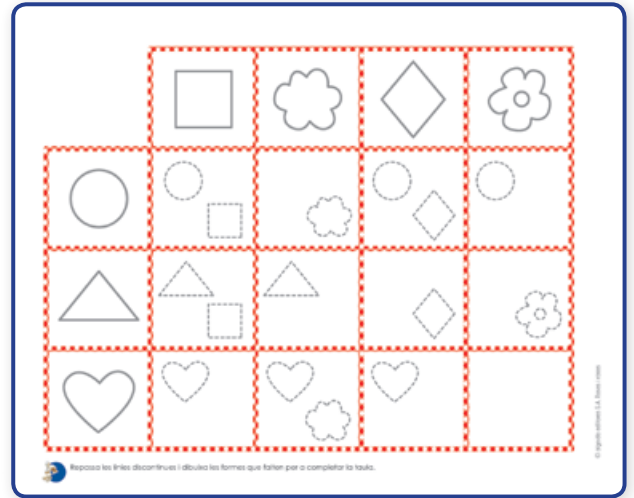
Fitxa 1



Activitat individual:

- Compta els punts totals de cada dau i pinta la mateixa quantitat de caselles.

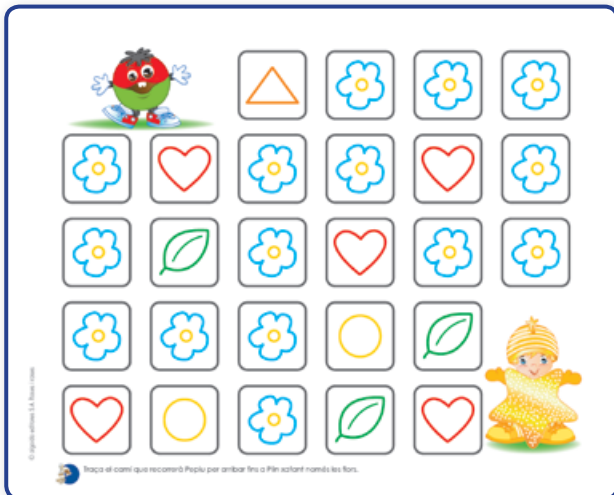
Fitxa 2



Activitat individual:

- Repassa les línies discontinües i dibuixa les formes que falten per a completar la taula.

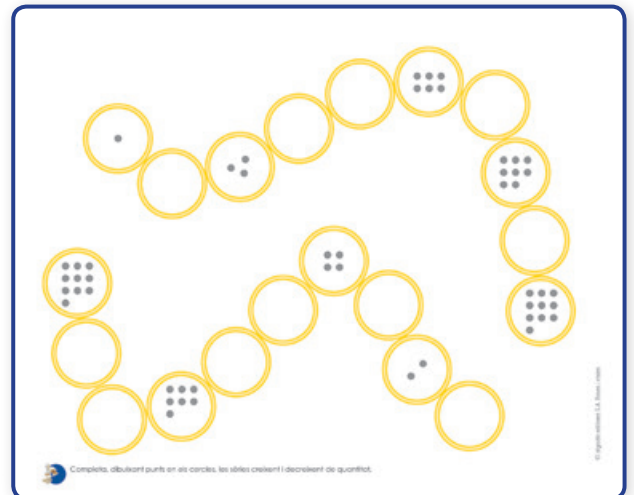
Fitxa 3



Activitat individual:

- Traça el camí que recorrerà Pepiu per arribar fins a Plin xafant només les flors.

Fitxa 4



Activitat individual:

- Completa, dibuixant punts en els cercles, les sèries creixent i decreixent de quantitat.

Fitxa 5

6 - 1 = 4 - 1 = 5 - 1 =
 8 - 1 = 9 - 1 = 3 - 1 =

Dibuixa una flor menys en cada espai i completa les etiquetes. Fes les restes.

Activitat individual:

- Dibuixa una flor menys en cada espai i completa les etiquetes. Fes les restes.

Fitxa 6

Continua les sèries.

Activitat individual:

- Continua les sèries.

Fitxa 7

Compta els punts de cada fitxa i unix-les amb l'etiqueta que corresponga. Repassa i escriu els nombres.

Activitat individual:

- Compta els punts de cada fitxa i unix-les amb l'etiqueta que corresponga. Repassa i escriu els nombres.

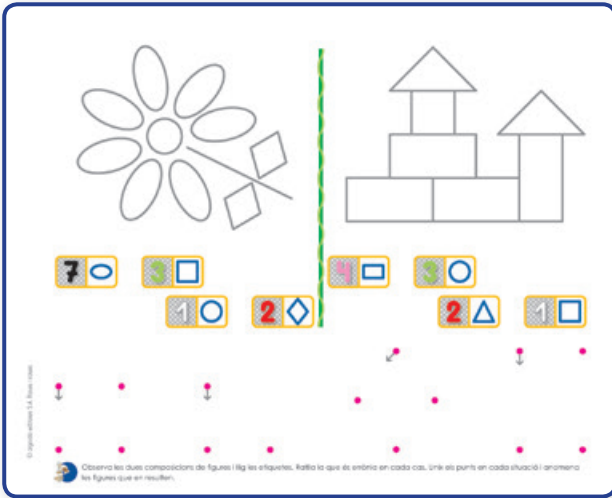
Fitxa 8

Copia la sanefa.

Activitat individual:

- Copia la sanefa.

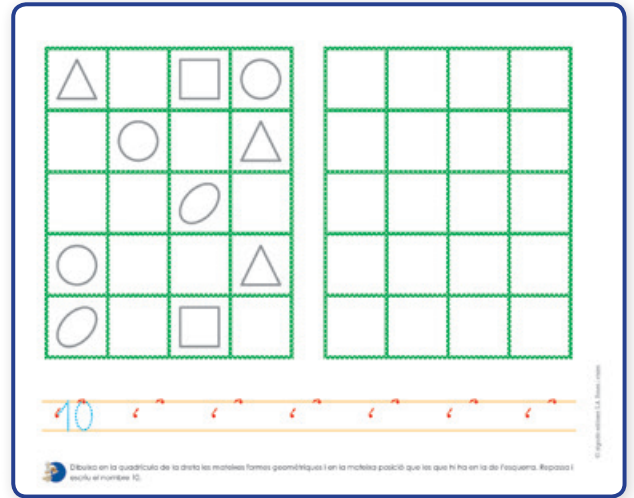
Fitxa 9



Activitat individual:

- Observa les dues composicions de figures i llig les etiquetes. Ratlla la que és errònia en cada cas. Unix els punts en cada situació i anomena les figures que en resulten.


Fitxa 10



Activitat individual:

- Dibuixa en la quadrícula de la dreta les mateixes formes geomètriques i en la mateixa posició que les que hi ha en la de l'esquerra. Repassa i escriu el nombre 10.

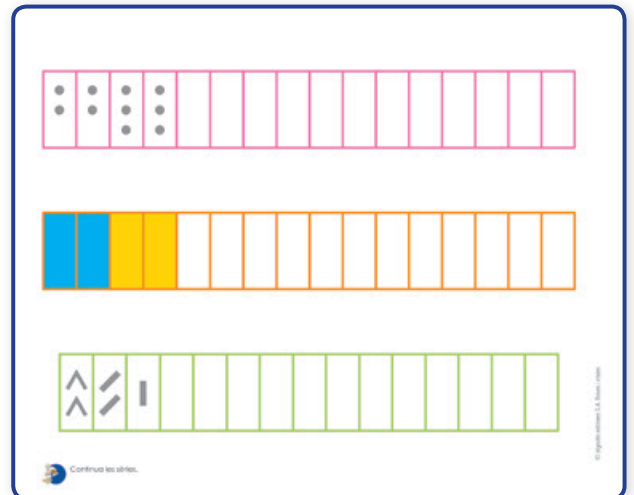
Fitxa 11



Activitat individual:

- Repassa les línies discontinües de les figures i pinta-les del color que correspon. Ratlla les dues que no formen part de la composició.

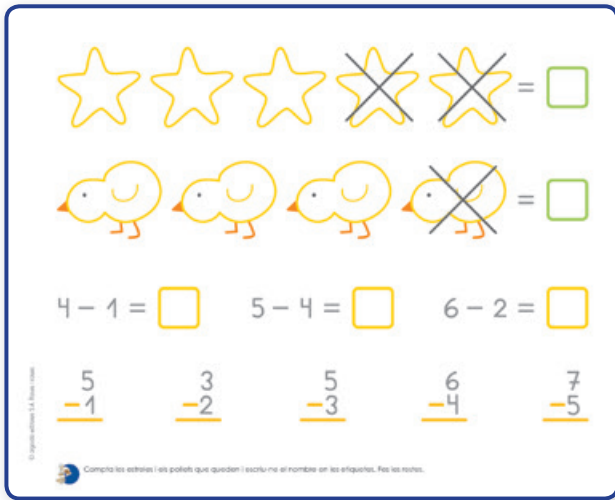
Fitxa 12



Activitat individual:

- Continua les sèries.

Fitxa 13



4 - 1 = □ 5 - 4 = □ 6 - 2 = □

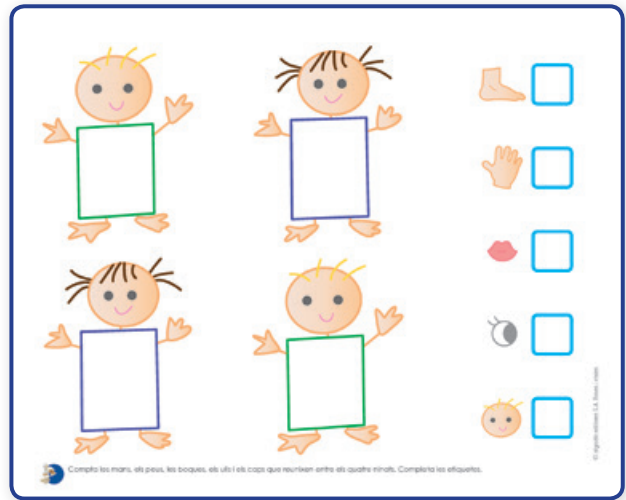
5 - 1 3 - 2 5 - 3 6 - 4 7 - 5

Compta les estrelles i els pollets que queden i escriu-ne el nombre en les etiquetes. Fes les restes.

Activitat individual:

- Compta les estrelles i els pollets que queden i escriu-ne el nombre en les etiquetes. Fes les restes.

Fitxa 14

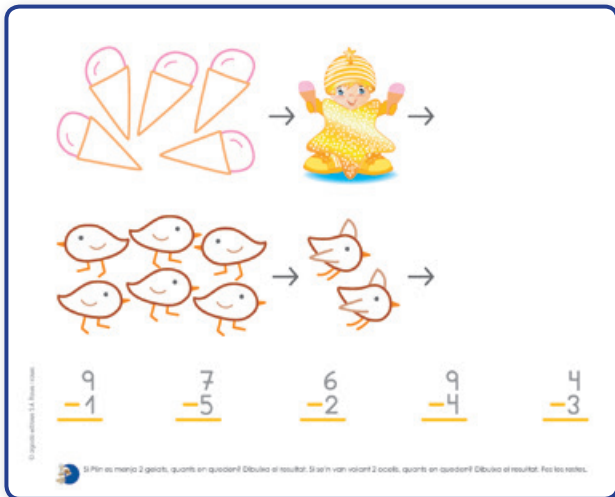


Compta les mans, els peus, les boques, els ulls i els caps que reuixen entre els quatre nins. Completa les etiquetes.

Activitat individual:

- Compta les mans, els peus, les boques, els ulls i els caps que reuixen entre els quatre nins. Completa les etiquetes.

Fitxa 15



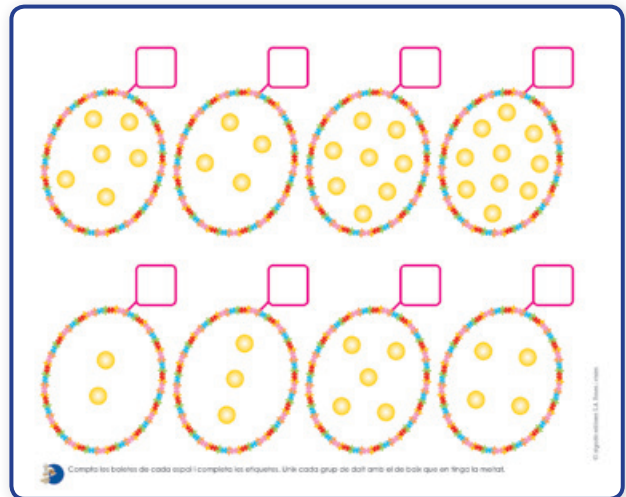
9 - 1 7 - 5 6 - 2 9 - 4 4 - 3

Si Plin es menja 2 gelats, quants en queden? Dibuixa el resultat. Si se'n van volant 2 ocells, quants en queden? Dibuixa el resultat. Fes les restes.

Activitat individual:

- Si Plin es menja 2 gelats, quants en queden? Dibuixa el resultat. Si se'n van volant 2 ocells, quants en queden? Dibuixa el resultat. Fes les restes.

Fitxa 16

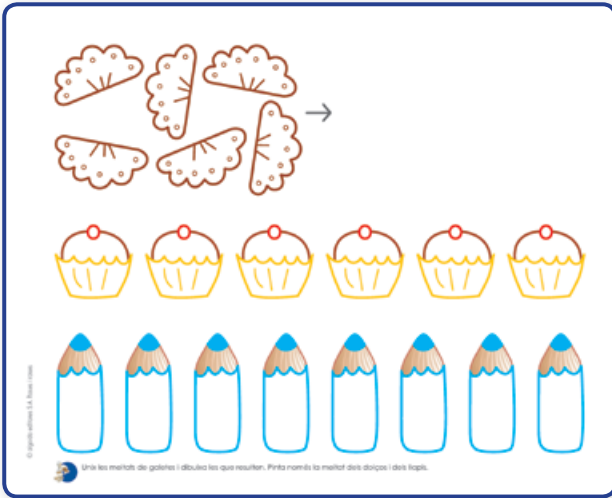


Compta les boletes de cada espai i completa les etiquetes. Unix cada grup de dalt amb el de baix que en tinga la meitat.

Activitat individual:

- Compta les boletes de cada espai i completa les etiquetes. Unix cada grup de dalt amb el de baix que en tinga la meitat.

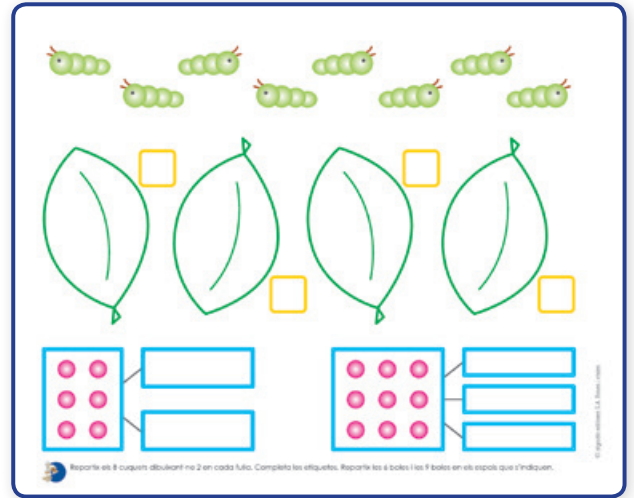
Fitxa 17



Activitat individual:

- Uniu les meitats de galetes i dibuixa les que resulten. Pinta només la meitat dels dolços i dels llapis.

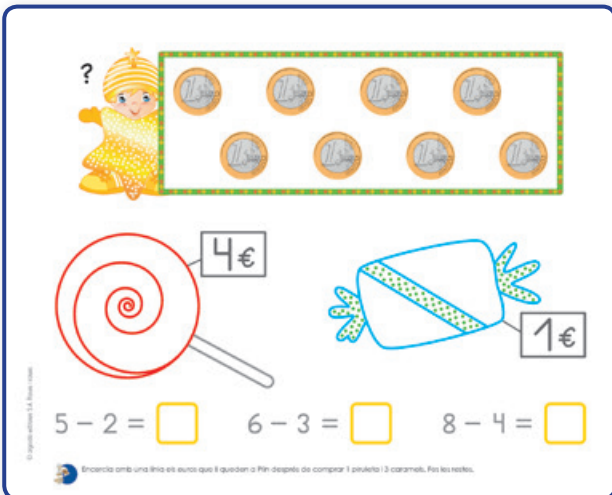
Fitxa 18



Activitat individual:

- Repartix els 8 cuquets dibuixant-ne 2 en cada fulla. Completa les etiquetes. Repartix les 6 boles i les 9 boles en els espais que s'indiquen.

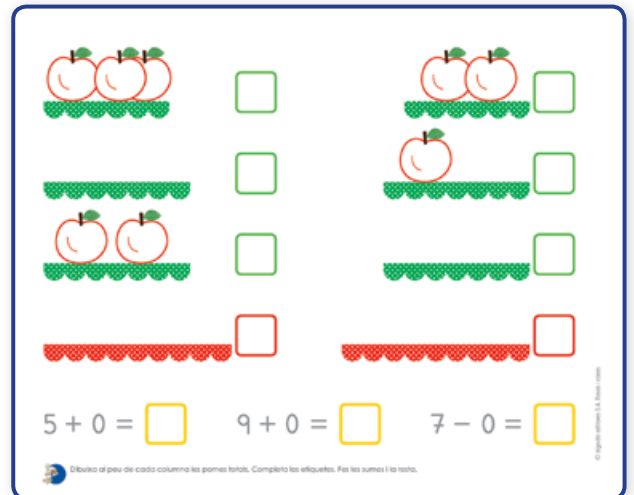
Fitxa 19



Activitat individual:

- Encercla amb una línia els euros que li queden a Plin després de comprar 1 piruleta i 3 caramels. Fes les restes.









Fitxa 20

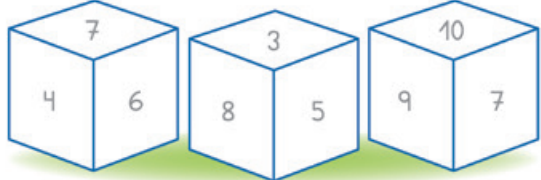


Activitat individual:

- Dibuixa al peu de cada columna les pomes totals. Completa les etiquetes. Fes les sumes i la resta.

Fitxa 21

$4 + 3 =$ <input type="text"/>		$6 - 2 =$ <input type="text"/>	
$5 + 4 =$ <input type="text"/>		$9 - 6 =$ <input type="text"/>	
$6 + 2 =$ <input type="text"/>		$8 - 2 =$ <input type="text"/>	
$5 + 5 =$ <input type="text"/>		$10 - 5 =$ <input type="text"/>	

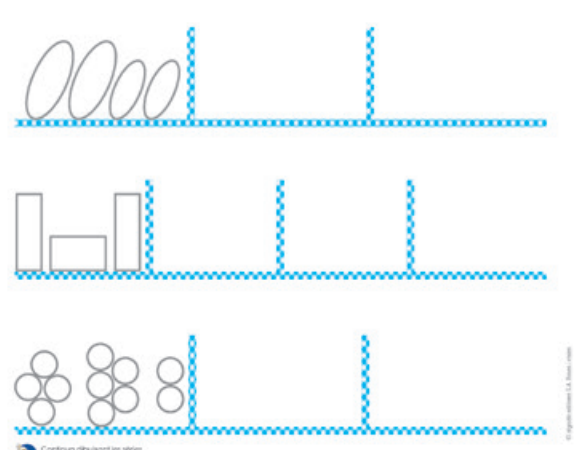


Fes les sumes, les restes i obtén el codi de color per a pintar els daus.

Activitat individual:

- Fes les sumes, les restes i obtén el codi de color per a pintar els daus.

Fitxa 22



Continua dibuixant les sèries.

Activitat individual:

- Continua dibuixant les sèries.