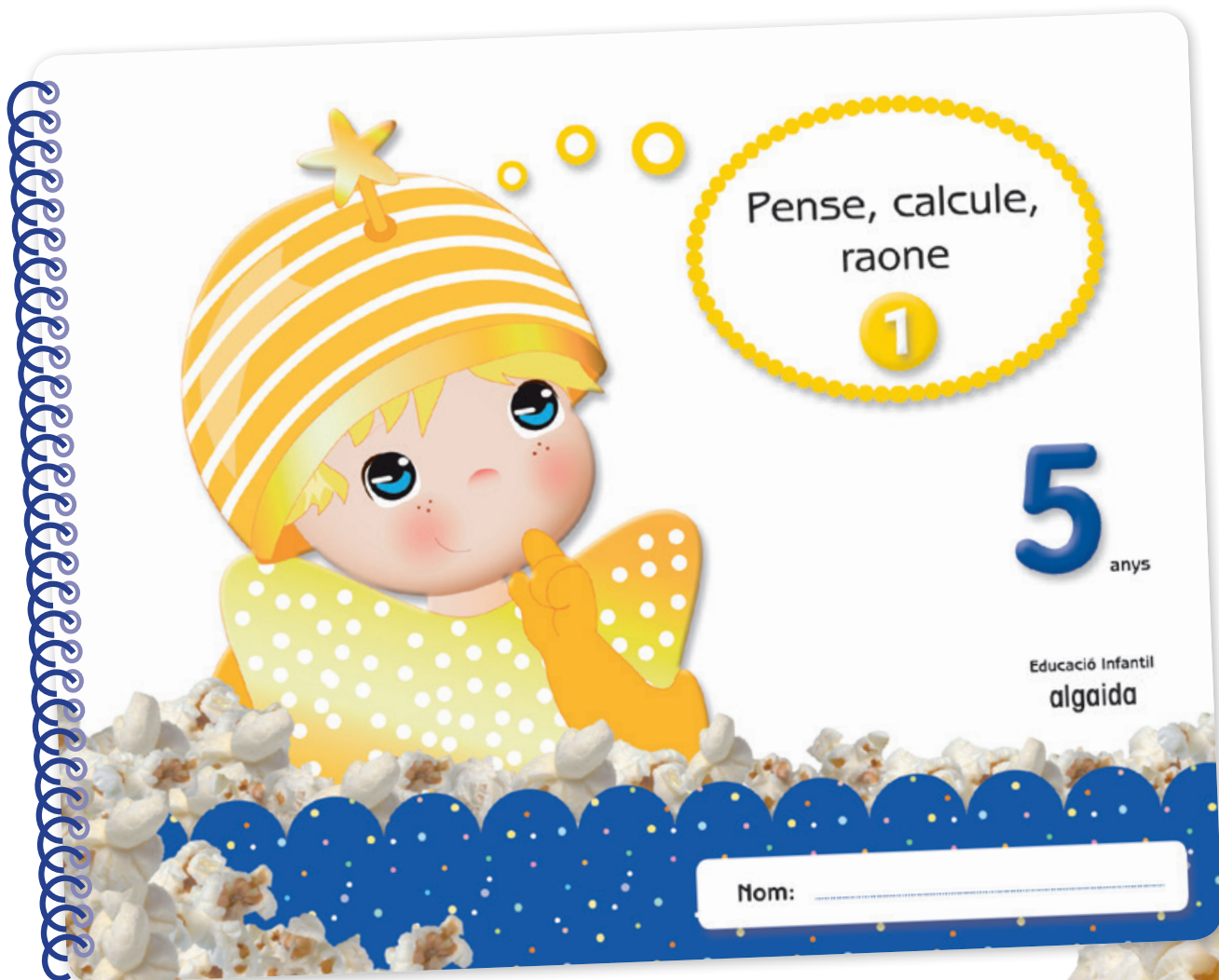


UNITAT

"PENSE, CALCULE, RAONE 1"



Nom: _____



Amb aquest quadern es pretén consolidar, repassar, reforçar i/o ampliar els continguts matemàtics que s'aborden en les unitats. És d'ús lliure, segons el criteri de cada docent. Suggestim que es treballi:

- Alternant-lo amb les unitats del trimestre.
- Al final del trimestre com a unitat de repàs de matemàtiques.
- Deixant-lo per al trimestre següent per si aquest és molt llarg.
- També cap la possibilitat que el porten a casa com a treball de vacances.



Fitxa 1

Pinta com indica el codi de color. Completa les sèries creixent i decreixent de nombres.

Activitat individual:

- Pinta com indica el codi de color. Completa les sèries creixent i decreixent de nombres.

Fitxa 2

Llig la sèrie de dalt i completa el que falta en les altres dues.

Activitat individual:

- Llig la sèrie de dalt i completa el que falta en les altres dues.

Fitxa 3

Busca i encercla amb una línia els llapis que estan en la mateixa posició que els dels models. Compta'ls i completa l'etiqueta.

Activitat individual:

- Busca i encercla amb una línia els llapis que estan en la mateixa posició que els dels models. Compta'ls i completa l'etiqueta.

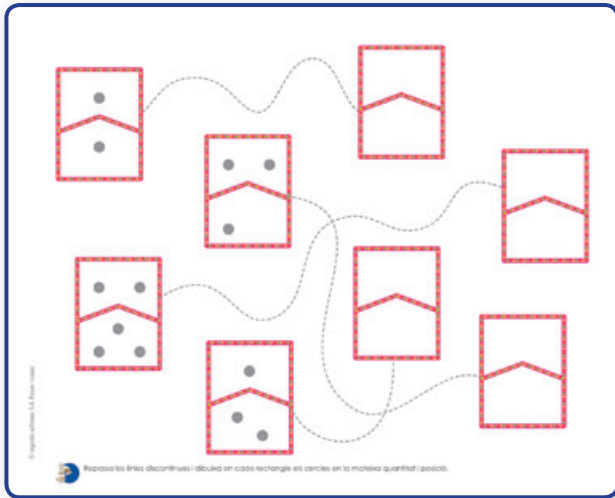
Fitxa 4

Repassa i escriu els nombres.

Activitat individual:

- Repassa i escriu els nombres.

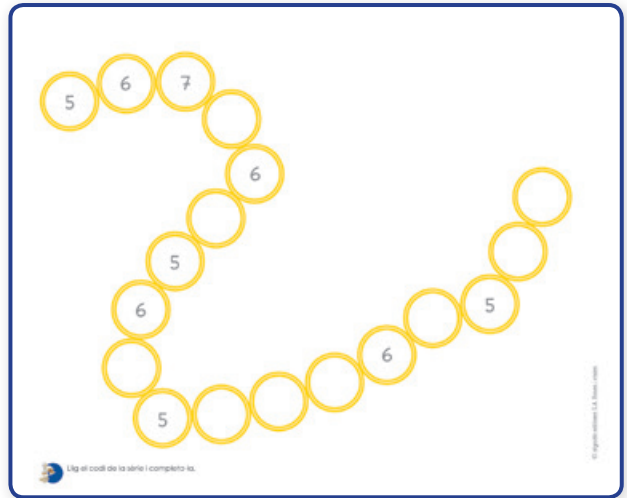
Fitxa 5



Activitat individual:

- Repassa les línies discontinües i dibuixa en cada rectangle els cercles en la mateixa quantitat i posició.


Fitxa 6



Activitat individual:

- Llig el codi de la sèrie i completa-la.

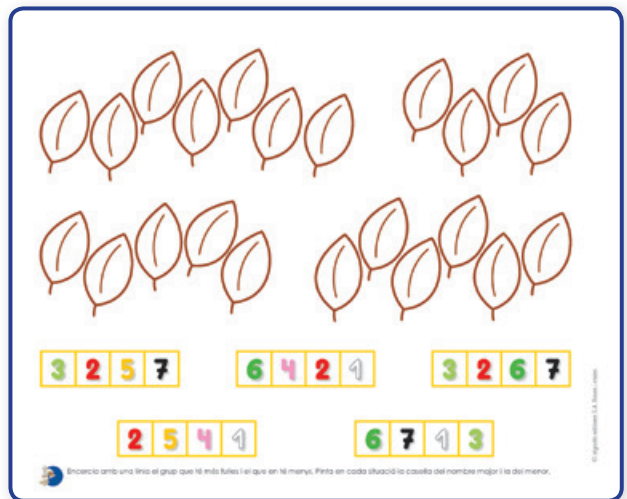
Fitxa 7



Activitat individual:

- Busca set diferències entre les dues imatges.

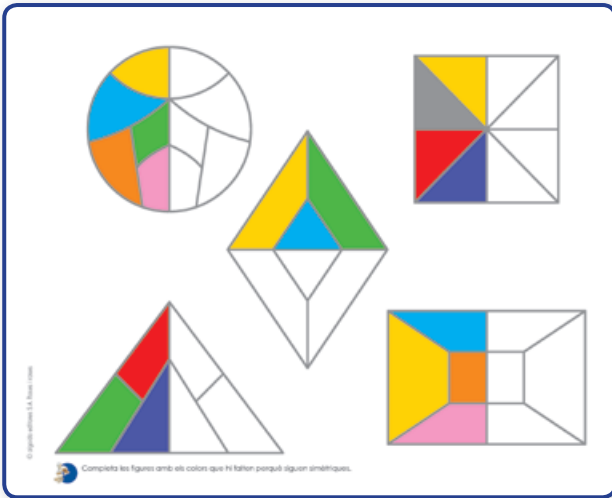
Fitxa 8



Activitat individual:

- Encercla amb una línia el grup que té més fulles i el que en té menys. Pinta en cada situació la casella del nombre major i la del menor.

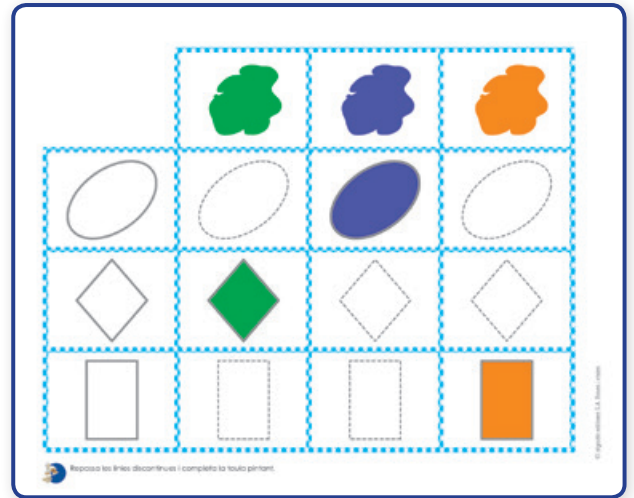
Fitxa 9



Activitat individual:

- Completa les figures amb els colors que hi falten perquè siguin simètriques.

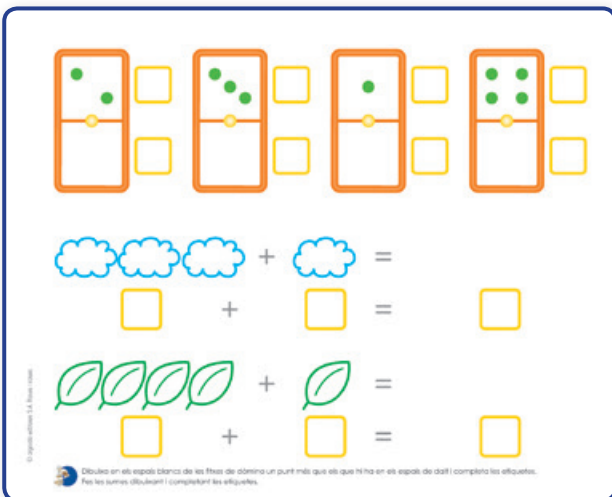
Fitxa 10



Activitat individual:

- Repassa les línies discontinües i completa la taula pintant.

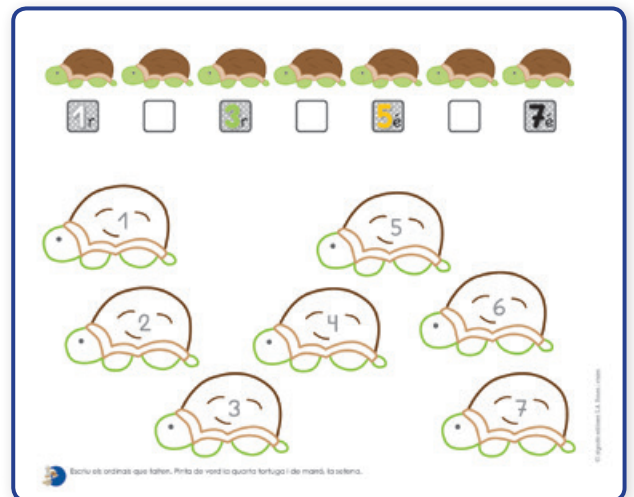
Fitxa 11



Activitat individual:

- Dibuixa en els espais blancs de les fitxes de dòmino un punt més que els que hi ha en els espais de dalt i completa les etiquetes. Fes les sumes dibuixant i completant les etiquetes.

Fitxa 12



Activitat individual:

- Escribe els ordinals que falten. Pinta de verd la quarta tortuga i de marró, la setena.

Fitxa 13

Activitat individual:

- Relaciona, per mitjà d'una línia, cada cor de dalt amb el de baix tenint en compte la grandària. Decora'ls seguint el codi.

Fitxa 14

Activitat individual:

- Fes les sumes dibuixant i completant les etiquetes.

Fitxa 15

Activitat individual:

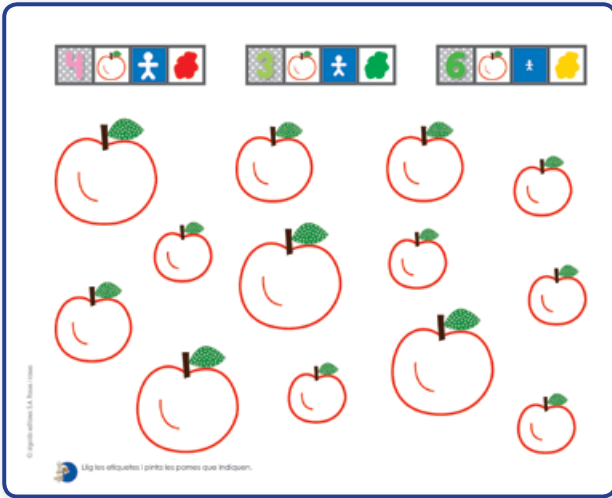
- Traça els camins per a unir cada quantitat amb el seu nombre. Pinta'ls de colors diferents.

Fitxa 16

Activitat individual:

- Escriu el nombre que correspon a cada reglet i unix, per mitjà d'una línia, cada grup de botons amb el que corresponga.

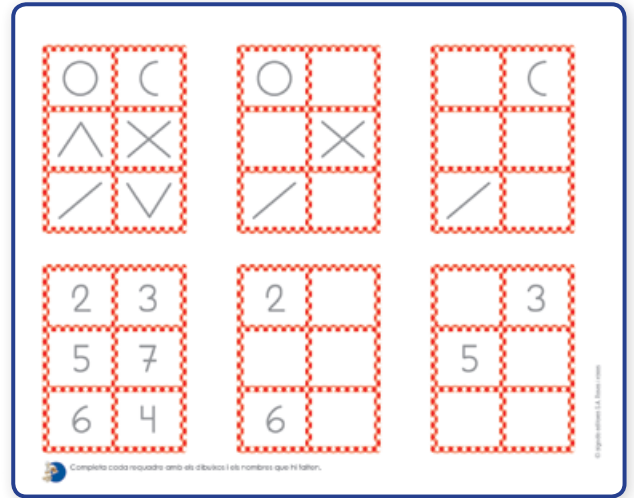
Fitxa 17



Activitat individual:

- Llig les etiquetes i pinta les pomes que indiquen.

Fitxa 18



Activitat individual:

- Completa cada requadre amb els dibuixos i els nombres que hi falten.

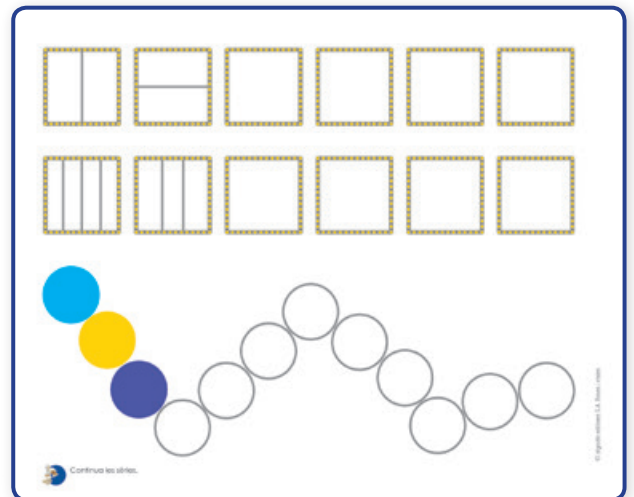
Fitxa 19



Activitat individual:

- Completa el que falta en cada dibuix perquè siguin iguals als dels models.


Fitxa 20



Activitat individual:

- Continua les sèries.

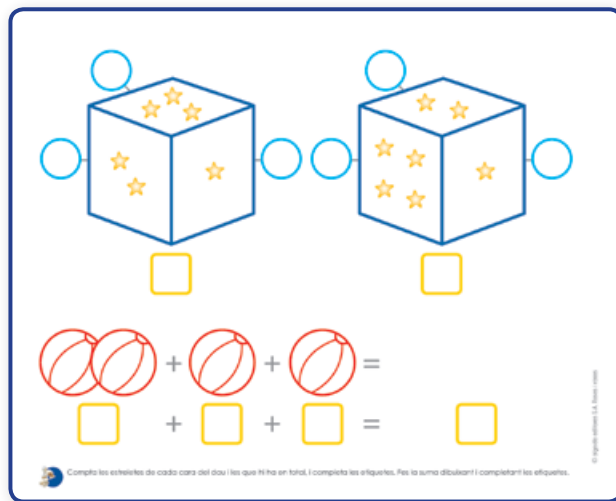
Fitxa 21



Activitat individual:

- Si Plin té 2 globus i Pipet li'n regala 3, quants en tindrà Plin? Dibuixa el resultat en el requadre.

Fitxa 22



Activitat individual:

- Compta les estreletes de cada cara del dau i les que hi ha en total, i completa les etiquetes. Fes la suma dibuixant i completant les etiquetes.

